





6



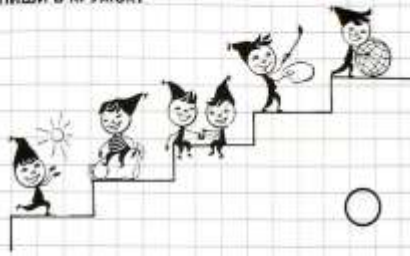
6

Найди шесть больших рыбок и раскрась их.

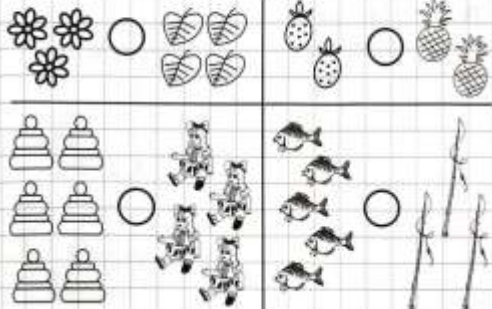


20

Посчитай сколько всего человечков на лестнице и впиши в кружок.



Расставь знаки >, <, =.



21